





แบบฝึกทักษะ  
ชุดผลิตเพลिनการบวกการลบที่ไม่เกิน  
100

เล่มที่ 1 ชวนฝึกบวกเลข





# ตัวชี้วัด



บวก ลบ และบวก  
ลบระคนของจำนวนนับ  
ไม่เกินหนึ่งร้อยและศูนย์  
พร้อมทั้งตระหนัก  
ถึงความสมเหตุสมผลของคำตอบ



## จุดประสงค์การเรียนรู้

1. เมื่อกำหนดจำนวนที่มีสองหลักกับ  
หลักเดียวที่มีผลบวกไม่เกิน  
100 ให้  
สามารถ  
หาคำตอบได้ถูกต้อง
2. เมื่อกำหนดจำนวนที่มีสองหลักกับ  
หลักเดียวที่มีผลบวกไม่เกิน  
100 ให้



สามารถหาคำตอบได้ถูกต้อง



# แบบฝึกที่ 1



ให้จับคู่ประโยคสัญลักษณ์ที่มีความหมายตรงกับคำตอบทางขวามือ

ตัวอย่าง

$5 + 3$



8

1.

$6 + 8$



12

แบบฝึกทักษะชุด เพลิดเพลินการบวกการลบที่ไม่เกิน100 เล่มที่ 1  
 วิชาฝึกบวกเลข



2.  $6 + 6$       14

3.  $7 + 9$       17

4.  $9 + 4$       16

5.  $8 + 9$       13

## แบบฝึกที่ 2



ให้นักเรียนหาผลบวกแล้วเขียนลงในช่องว่างให้ถูกต้อง

1.	$\begin{array}{r} 6 \\ + \\ \hline 5 \\ \hline \hline \end{array}$	6.	$\begin{array}{r} 5 \\ + \\ \hline 7 \\ \hline \hline \end{array}$
2.	$\begin{array}{r} 7 \\ + \\ \hline 7 \\ \hline \hline \end{array}$	7.	$\begin{array}{r} 9 \\ + \\ \hline 2 \\ \hline \hline \end{array}$

แบบฝึกทักษะชุด เพลิดเพลินการบวกการลบที่ไม่เกิน100 เล่มที่ 1  
 ชวนฝึกบวกเลข



3.                    4 <u>   8   </u> + ==== 	8.                    8 <u>   9   </u> + ==== 
4.                    3 <u>   6   </u> + ==== 	9.                    4 <u>   3   </u> × ==== 
5.                    5 <u>   3   </u> + ==== 	10.                   9 <u>   4   </u> + ==== 

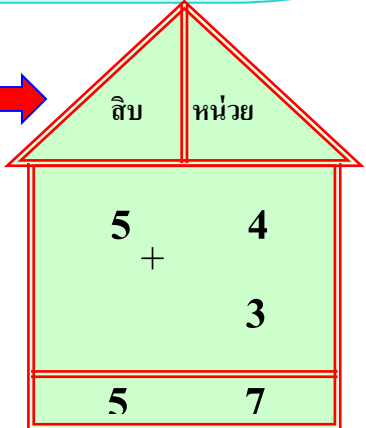
# แบบฝึกที่ 3

การบวกจำนวนที่มีผลบวกไม่เกิน 100 และไม่มีการทด

การบวก 2 หลักกับ 1 หลัก

ให้นักเรียนหาผลบวก

ตัวอย่าง



แบบฝึกทักษะชุด เพลิดเพลินการบวกการลบที่ไม่เกิน100 เล่มที่ 1  
 วิชาฝึกบวกเลข



1.

สิบ	หน่วย
4	2 +
	7

2.

สิบ	หน่วย
5	6 +
	3

3.

สิบ	หน่วย
8	0 +
	9



4.

สิบ	หน่วย
	7 +
3	2



5.

สิบ	หน่วย
	6 +
6	2



# แบบฝึกที่ 4



ให้นักเรียนหาคำตอบ

ตัวอย่าง

2.

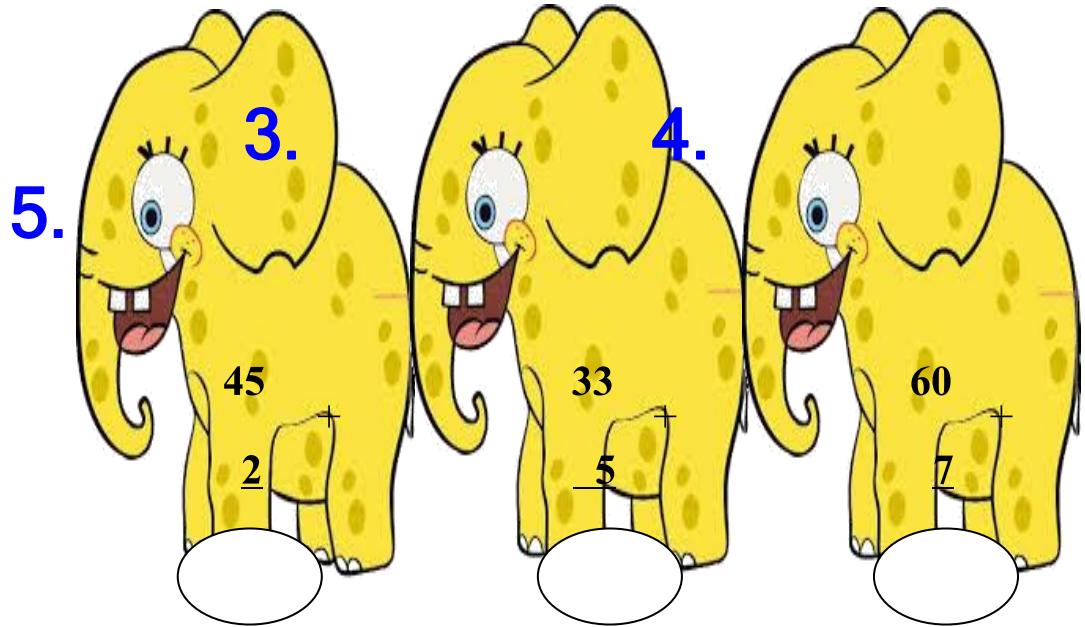
$$\begin{array}{r} 11 \\ - 6 \\ \hline \end{array}$$

1.

$$\begin{array}{r} 24 \\ + 4 \\ \hline \end{array}$$

$$\begin{array}{r} 37 \\ - 2 \\ \hline \end{array}$$

แบบฝึกทักษะชุด เพลิดเพลินการบวกการลบที่ไม่เกิน100 เล่มที่ 1  
 วิชาฝึกบวกเลข



# แบบฝึกที่ 5

ให้นักเรียนหาผลบวก

ตัวอย่าง


สิบ	หน่วย
4	2
3	7 +

1.

สิบ	หน่วย
4	3
3	5 +



แบบฝึกทักษะชุด เพลิดเพลินการบวกการลบที่ไม่เกิน100 เล่มที่ 1  
 วิชาฝึกบวกเลข



7	9
---	---

7	8
---	---

สิบ	หน่วย
-----	-------

สิบ	หน่วย
-----	-------

7	4
1	4 +
8	8

6	1
2	6 +
8	7

4.

สิบ	หน่วย
5	2
2	6 +
7	8

5.


สิบ	หน่วย
6	2
3	5 +
9	7



# แบบฝึกที่ 6



ให้นักเรียนจับคู่หาคำตอบ

1.  $67 + 32$  

 79

แบบฝึกทักษะชุด เพลิดเพลินการบวกการลบที่ไม่เกิน100 เล่มที่ 10  
ชวนฝึกบวกเลข



2.  $15 + 80$    67

3.  $56 + 23$    95

4.  $67 + 10$    99

5.  $27 + 40$    77



แบบทดสอบท้ายเล่ม 1 ชวนฝึกบวกเลข



การบวกจำนวนที่ไม่เกิน 100 (ไม่มีการทด)



ตอนที่ 1 จงเติมคำตอบลงใน  ให้ถูกต้อง

แบบฝึกทักษะชุด เพลิดเพลินการบวกการลบที่ไม่เกิน100 เล่มที่ 11  
 ชวนฝึกบวกเลข



1.

44

4.

53

$$\begin{array}{r} 5 \\ + \\ \hline \square \end{array}$$

$$\begin{array}{r} 6 \\ + \\ \hline \square \end{array}$$

2.

82

5.

45

$$\begin{array}{r} 16 \\ + \\ \hline \square \end{array}$$

$$\begin{array}{r} 34 \\ + \\ \hline \square \end{array}$$

3.

61

23

$$\begin{array}{r} \\ + \\ \hline \square \end{array}$$



ตอนที่ 2 จงเติมคำตอบลงใน ช่องว่าง ให้ถูกต้อง

1.  $84 + 2 = \underline{\hspace{2cm}}$

2.  $70 + 5 = \underline{\hspace{2cm}}$

3.  $44 + 24 = \underline{\hspace{2cm}}$

4.  $35 + 52 = \underline{\hspace{2cm}}$

5.  $43 + 14 = \underline{\hspace{2cm}}$



# เฉลยแบบฝึกที่ 1













ให้จับคู่ประโยคสัญลักษณ์ที่มีความหมายตรงกับคำตอบทางขวามือ

ตัวอย่าง

$$5 + 3 \bullet \longrightarrow \bullet$$

8



1.	$6 + 8$			$12$
2.	$6 + 6$			$14$
3.	$7 + 9$			$17$
4.	$9 + 4$			$16$
5.	$8 + 9$			$13$

*Note: Red lines connect the dots to the correct answers: 1 to 14, 2 to 12, 3 to 16, 4 to 13, 5 to 17.*

## เฉลยแบบฝึกที่ 2

ให้นักเรียนหาผลบวกแล้วเขียนลงในช่องว่างให้ถูกต้อง

1.	$\begin{array}{r} 6 \\ + 5 \\ \hline 11 \end{array}$	6.	$\begin{array}{r} 5 \\ + 7 \\ \hline 12 \end{array}$
----	--	----	--



2.	$\begin{array}{r} 7 \\ + \\ \hline 7 \\ \hline 14 \end{array}$	7.	$\begin{array}{r} 9 \\ + \\ \hline 2 \\ \hline 11 \end{array}$
3.	$\begin{array}{r} 4 \\ + \\ \hline 8 \\ \hline 12 \end{array}$	8.	$\begin{array}{r} 8 \\ + \\ \hline 9 \\ \hline 17 \end{array}$
4.	$\begin{array}{r} 3 \\ + \\ \hline 6 \\ \hline 9 \end{array}$	9.	$\begin{array}{r} 4 \\ + \\ \hline 3 \\ \times \\ \hline 7 \end{array}$
5.	$\begin{array}{r} 5 \\ + \\ \hline 3 \\ \hline 8 \end{array}$	10.	$\begin{array}{r} 9 \\ + \\ \hline 4 \\ \hline 13 \end{array}$

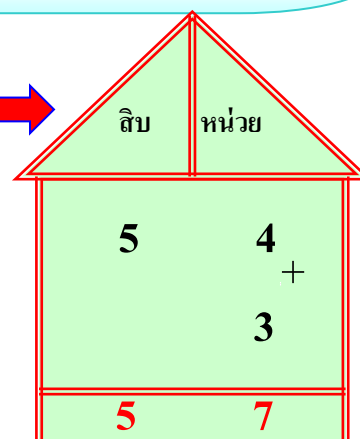
## เฉลยแบบฝึกที่ 3

การบวกจำนวนที่มีผลบวกไม่เกิน 100 และไม่มีการทด

การบวก 2 หลักกับ 1 หลัก

ให้นักเรียนหาผลบวก

ตัวอย่าง






สิบ	หน่วย
4	2
	+
	7
4	9



สิบ	หน่วย
5	6
	+
	3
5	9



สิบ	หน่วย
8	0
	+
	9
8	9



สิบ	หน่วย
	7
	+
3	2



สิบ	หน่วย
	6
	+
6	2



# เฉลยแบบฝึกที่ 4



ให้นักเรียนหาคำตอบ

ตัวอย่าง

11	+
----	---

1.

24	+
----	---

37	+
----	---



17

28

39

5. **3.** **4.**

45  
 $\underline{2}$   
 47

33  
 $\underline{5}$   
 38

60  
 $\underline{7}$   
 67



# เฉลยแบบฝึกที่ 5

ให้นักเรียนหาผลบวก

ตัวอย่าง

สิบ	หน่วย
4	2
	+
3	7

1.

สิบ	หน่วย
4	3
	+
3	5





7	9
---	---

2.

สิบ	หน่วย
7	4
	+
1	4
<b>8</b>	<b>8</b>

3.

สิบ	หน่วย
6	1
	+
2	6
<b>8</b>	<b>7</b>

4.

สิบ	หน่วย
5	2
	+
2	6
<b>7</b>	<b>8</b>

5.


สิบ	หน่วย
6	2
	+
3	5
<b>9</b>	<b>7</b>

## เฉลยแบบฝึกที่ 6



ให้นักเรียนโยงเส้นจับคู่หาคำตอบ

1.  $67 + 32$   $79$











แบบฝึกทักษะชุด เพลิดเพลินการบวกการลบที่ไม่เกิน100 เล่มที่ 18



ชวนฝึกบวกเลข



2.	15	+	80			67
3.	56	+	23			95
4.	67	+	10			99
5.	27	+	40			77



เฉลยแบบทดสอบท้ายเล่มที่ 1 ชวนฝึกบวกเลข



การบวกจำนวนที่ไม่เกิน 100 (ไม่มีการทด)



ตอนที่ 1 จงเติมคำตอบลงใน  ให้ถูกต้อง

1.      44  
          +  
\_\_\_\_\_

4.      53  
          +  
\_\_\_\_\_

แบบฝึกทักษะชุด เพลิดเพลินการบวกการลบที่ไม่เกิน100 เล่มที่ 19  
ชวนฝึกบวกเลข



$$\begin{array}{r} 5 \\ 49 \end{array}$$

$$\begin{array}{r} 6 \\ 59 \end{array}$$

$$\begin{array}{r} 2. \quad 82 \\ + 16 \\ \hline 98 \end{array}$$

$$\begin{array}{r} 5. \quad 45 \\ + 34 \\ \hline 79 \end{array}$$

$$\begin{array}{r} 3. \quad 61 \\ + 23 \\ \hline 84 \end{array}$$



ตอนที่ 2 จงเติมคำตอบลงใน ช่องว่าง ให้ถูกต้อง

$$1. \quad 84 + 2 = \underline{86}$$

$$2. \quad 70 + 5 = \underline{75}$$

$$3. \quad 44 + 24 = \underline{68}$$

$$4. \quad 35 + 52 = \underline{87}$$

$$5. \quad 43 + 14 = \underline{57}$$

